

سلاح التلميذ

منذ عام ١٩٦٠

الدراسات الاجتماعية

اختبارات على شهري أكتوبر ونوفمبر



2022 - 2021

الصف الرابع الابتدائي

4

الاختبار ١

السؤال الأول اختر الإجابة الصحيحة مما بين القوسين:

- ١ تُعد من المصادر الأولية.
(مذكرات الملك فاروق - كتاب قناة السويس - الأبحاث عن الأهرامات - موسوعة الآثار المصرية)
- ٢ أي من عناصر الخريطة التالية يُستخدَم عند رسم البحر الأحمر في ورقة صغيرة
(العنوان - مقياس الرسم - وردة البوصلة - المفتاح)

السؤال الثاني اكتب كلمة (صواب) أمام العبارة الصحيحة، وكلمة (خطأ) أمام العبارة غير الصحيحة:

- ١ يختلف مناخ مصر مع مناخ سيراليون. ()
- ٢ يتوسط علم مصر نسر به نفس ألوان العلم. ()

السؤال الثالث أكمل العبارات التالية بما يناسبها من كلمات:

- ١ يمكنك كطالب الاستفادة من GPS في
- ٢ يحيط بعالمنا محيطات.

السؤال الرابع أمامك خريطة صماء لمحافظة القاهرة، اكتب مدلول الأرقام الموقعة عليها:

- ١ يشير رقم (١) إلى محافظة
- ٢ تحيط المحافظة رقم (٢) القاهرة من اتجاهي و



محافظة القاهرة

السؤال الخامس أجب عما يلي:

- ١ حدد أوجه التشابه والاختلاف بين بحيرة ناصر وبحيرة المنزلة.
- ٢ حدد أحد مظاهر الاحتفال بالعيد القومي لمحافظةك.



الاختبار ٢

السؤال الأول اختر الإجابة الصحيحة مما بين القوسين:

- ١ يشير الرمز المقابل إلى أحد عناصر الخريطة وهو
 (خطوط الطول - دوائر العرض - وردة البوصلة - مقياس الرسم)
- ٢ يدل اللون في علم دولة العراق على السلام.
 (الأحمر - الأبيض - الأسود - الأخضر)

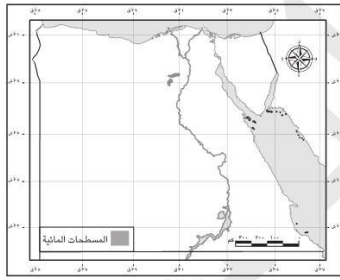
السؤال الثاني اكتب كلمة (صواب) أمام العبارة الصحيحة، وكلمة (خطأ) أمام العبارة غير الصحيحة:

- ١ تساهم العاصمة الإدارية في تحسين الحياة لسكان محافظة القاهرة. ()
- ٢ إذا أردت الاستمتاع بالشعاب المرجانية فعليك زيارة البحر المتوسط. ()

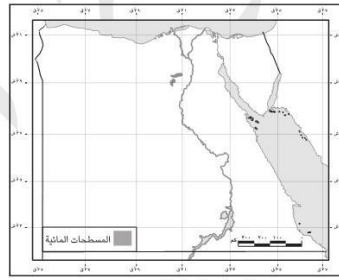
السؤال الثالث أكمل العبارات التالية بما يناسبها من كلمات:

- ١ تنحصر الصحراء الشرقية بين نهر النيل غرباً و شرقاً.
- ٢ المناخ يسود معظم الأراضي المصرية.

السؤال الرابع لاحظ الخرائط، ثم أجب:



الموارد المائية في مصر



الموارد المائية في مصر

- ١ العنصر الناقص بالخريطة (أ) هو
- ٢ نستفيد من العنصر الناقص في

السؤال الخامس أجب عما يلي:

- ١ ما سبب اختيار القاهرة عاصمة لمصر على مر العصور؟
- ٢ صنف العبارات التالية إلى حقيقة ورأي: (هرم خوفو هو الهرم الأكبر - سفاجا أجمل مدن البحر الأحمر)

رأي	حقيقة



الاختبار ٣

السؤال الأول اختر الإجابة الصحيحة مما بين القوسين:

- ١ أحد مظاهر الاحتفال بالعيد القومي لمحافظةك هو
- (تزيين الشوارع - إقامة الصلاة - غلق الأسواق - ذبح الأضحية)
- ٢ لتنفيذ مشروع يحتاج إلى مساحات كبيرة فعلينا التوجه إلى أكبر محافظات مصر مساحة وهي
- (الشرقية - بني سويف - الوادي الجديد - دمياط)

السؤال الثاني اكتب كلمة (صواب) أمام العبارة الصحيحة، وكلمة (خطأ) أمام العبارة غير الصحيحة:

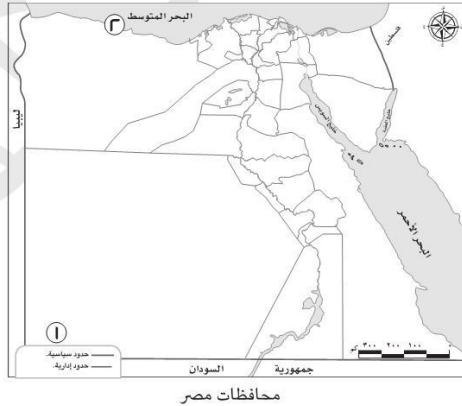
- ١ يقع اتجاه الشرق عكس اتجاه الغرب. ()
- ٢ تمتد محافظات الوجه القبلي إلى خارج مصر. ()

السؤال الثالث أكمل العبارات التالية بما يناسبها من كلمات:

- ١ يفصل بين قارتي إفريقيا وأمريكا الجنوبية المحيط
- ٢ تُصنّف محافظتك على أنها من محافظات

السؤال الرابع أمامك خريطة لمصر لاحظها جيدًا، ثم أجب:

- ١ يشير رقم (١) إلى هضبة
- ٢ يشير رقم (٢) للبيئة



السؤال الخامس أجب عما يلي:

- ١ قارن بين مصدر المياه في البيئة الصحراوية والبيئة الزراعية.
- ٢ حدد اثنين من المجالات التي تستفيد من بيانات الأرصاد الجوية.



الاختبار ٤

السؤال الأول اختر الإجابة الصحيحة مما بين القوسين:

- ١ يتشابه الطقس مع المناخ أن كليهما يوضح
- (حالة الجو - أشكال السطح - فصول السنة - الأنشطة الاقتصادية)
- ٢ اللحن الرائع للنشيد الوطني المصري من إبداع الفنان
- (يونس القاضي - عمار الشريعي - مصطفى الرافي - سيد درويش)

السؤال الثاني اكتب كلمة (صواب) أمام العبارة الصحيحة، وكلمة (خطأ) أمام العبارة غير الصحيحة:

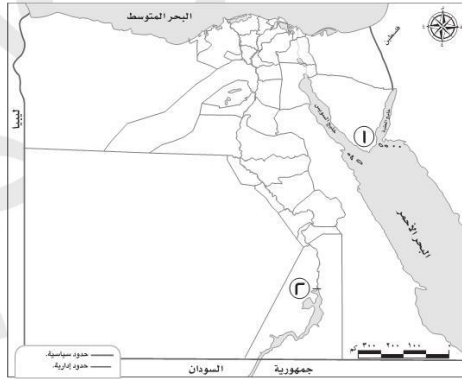
- ١ شبه جزيرة سيناء تحيط بها المياه من ثلاث جهات. ()
- ٢ احتلت مصر دورًا رئيسًا في التجارة حاليًا بعد حفر قناة سيزوستريس. ()

السؤال الثالث أكمل العبارات التالية بما يناسبها من كلمات:

- ١ الظاهرة التضاريسية التي توجد في القاهرة وارتفاعها أقل من ١٠٠٠ متر هي
- ٢ البيئة التي تحيط بنهر النيل تُسمَّى بيئة

السؤال الرابع أمامك خريطة لمصر لاحظها جيدًا، ثم أجب:

- ١ يشير الرقم (١) لجبل
- ٢ يشير الرقم (٢) للسد



السؤال الخامس أجب عما يلي:

- ١ حدد إحدى النتائج المترتبة على: حفر قناة السويس الجديدة؟
- ٢ وضح أهمية الخريطة للجيش.



الاختبار ٥

السؤال الأول اختر الإجابة الصحيحة مما بين القوسين:

- ١) تلوّن على خريطة التضاريس باللون الأخضر الداكن.
(المرتفعات - البحيرات - المنخفضات - البحار)
- ٢) من قارات العالم القديم ولا تقع بها مصر قارة
(أمريكا الجنوبية - أمريكا الشمالية - إفريقيا - أوروبا)

السؤال الثاني اكتب كلمة (صواب) أمام العبارة الصحيحة، وكلمة (خطأ) أمام العبارة غير الصحيحة:

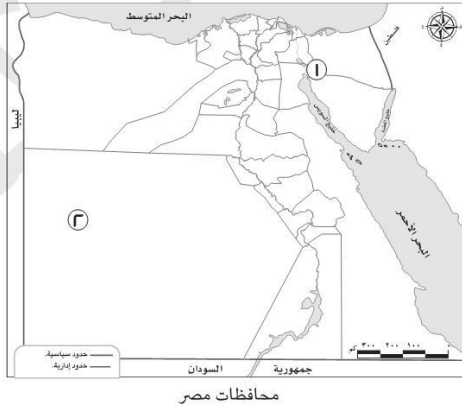
- ١) ترتبط البيئة الساحلية بوجود الأنهار. ()
- ٢) الآراء تعبر عن وجهات النظر المختلفة حول موضوع معين. ()

السؤال الثالث أكمل العبارات التالية بما يناسبها من كلمات:

- ١) نحدد الاتجاه الصحيح على الخريطة باستخدام
- ٢) سُمّيت الصحراء السوداء بهذا الاسم؛ لأن سطحها تغطيه بقايا

السؤال الرابع أمامك خريطة لمصر لاحظها جيدًا، ثم أجب:

- ١) يشير الرقم (١) إلى
- ٢) يشير الرقم (٢) إلى بحر



السؤال الخامس أجب عما يلي:

- ١) فسّر سبب وجود اللون الأسود في علم مصر.
- ٢) حدد أحد أوجه التشابه بين الصور الجوية والصور الفضائية.



سلاح التلميذ

منذ عام ١٩٦٠

الدراسات الاجتماعية

الإجابات النموذجية على اختبارات شهري أكتوبر ونوفمبر



2022 - 2021

الصف الرابع الابتدائي

4

إجابة الاختبار ١

السؤال الأول:

- ١ مذكرات الملك فاروق.
٢ مقياس الرسم.

السؤال الثاني:

- ١ صواب.
٢ خطأ.

السؤال الثالث:

- ١ الوصول للأماكن. (تُقبَل جميع الإجابات الصحيحة).
٢ خمسة.

السؤال الرابع:

- ١ السويس.
٢ الغرب والجنوب.

السؤال الخامس:

- ١ - وجه التشابه: كلاهما بحيرة، يحيط بهما اليابس من جميع الجهات.
- وجه الاختلاف: بحيرة ناصر هي بحيرة صناعية من المياه العذبة، بينما بحيرة المنزلة هي بحيرة طبيعية من المياه المالحة.
٢ تُترك الإجابة للتلميذ، مثل: تزيين الشوارع، إقامة الاحتفالات.

إجابة الاختبار ٢

السؤال الأول:

- ١ مقياس الرسم.
٢ الأبيض.

السؤال الثاني:

- ١ صواب.
٢ خطأ.

السؤال الثالث:

- ١ البحر الأحمر.
٢ الصحراوي الحار.

السؤال الرابع:

- ١ وردة البوصلة.
٢ تحديد المواقع.

السؤال الخامس:

- ١ لموقعها المتميز؛ لأنها نقطة التقاء الوجهين القبلي والبحري.
٢ - الرأي هو (سفاجا أجمل مدن البحر الأحمر)
- الحقيقة (هرم خوفو هو الهرم الأكبر).



إجابة الاختبار ٣

٢ الوادي الجديد.

٢ خطأ.

السؤال الأول:

١ تزيين الشوارع.

السؤال الثاني:

١ صواب.

السؤال الثالث:

١ الأطلنطي.

٢ يجيب التلميذ بحسب محافظته إحدى هذه الإجابات (الحدود - الوجه البحري - الوجه القبلي).

السؤال الرابع:

١ الجلف الكبير.

٢ الساحلية.

السؤال الخامس:

١ مصدر المياه في البيئة الصحراوية: المياه الجوفية أو الآبار ، ومصدر المياه في البيئة الزراعية نهر النيل.

٢ تُقبل جميع الإجابات الصحيحة مثل: الزراعة - النقل الجوي.

إجابة الاختبار ٤

٢ سيد درويش.

٢ خطأ.

السؤال الأول:

١ مطروح.

السؤال الثاني:

١ صواب.

السؤال الثالث:

١ التل - تلال المقطم (إجابة التلميذ بواحدة من الإجابتين تُحتسب إجابة صحيحة).

٢ زراعية.

السؤال الرابع:

١ سانت كاترين.

٢ العالي.

السؤال الخامس:

١ تقليل زمن مرور السفن في قناة السويس.

٢ تساعد على تحديد المواقع الحربية.



إجابة الاختبار ٥

السؤال الأول:

١ المنخفضات.

السؤال الثاني:

١ خطأ.

السؤال الثالث:

١ وردة البوصلة.

السؤال الرابع:

١ قناة السويس.

السؤال الخامس:

١ ليرمز إلى فترة الاستعمار.

٢ تساعدنا على رسم الخرائط (تُقبل جميع الإجابات الصحيحة).

٢ أوروبا.

٢ صواب.

٢ الانفجارات البركانية.

٢ الرمال العظيم.

